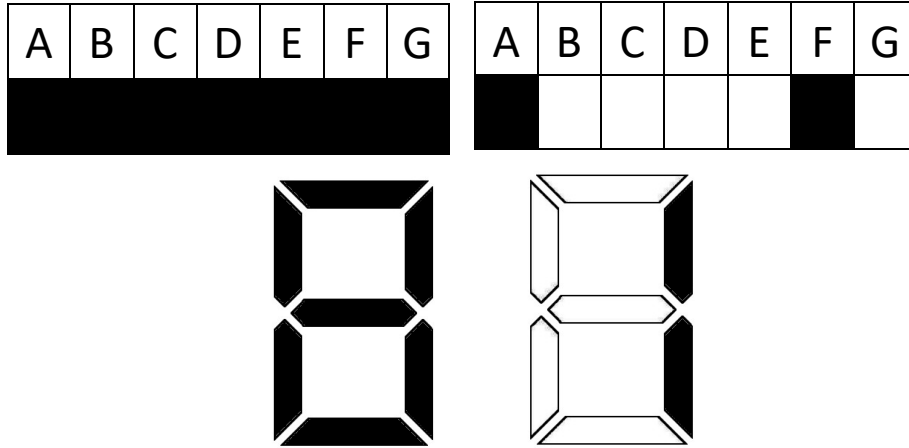


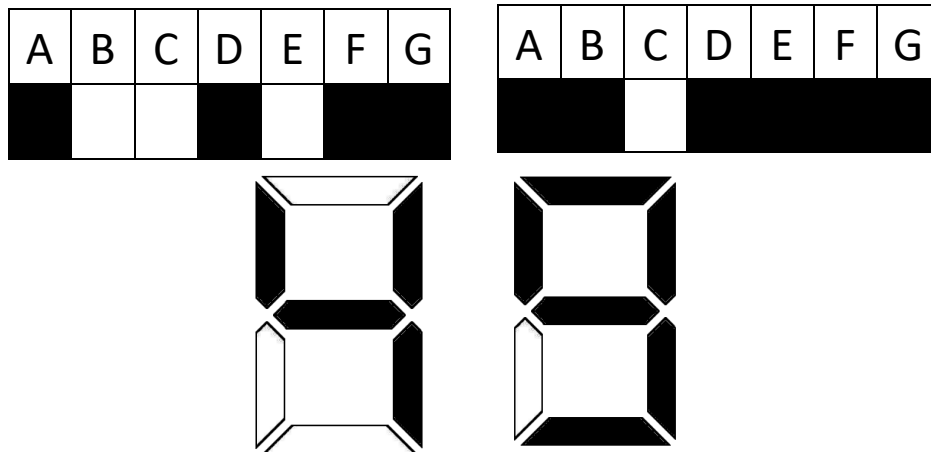
L'HORLOGE NUMERIQUE

Corrigé

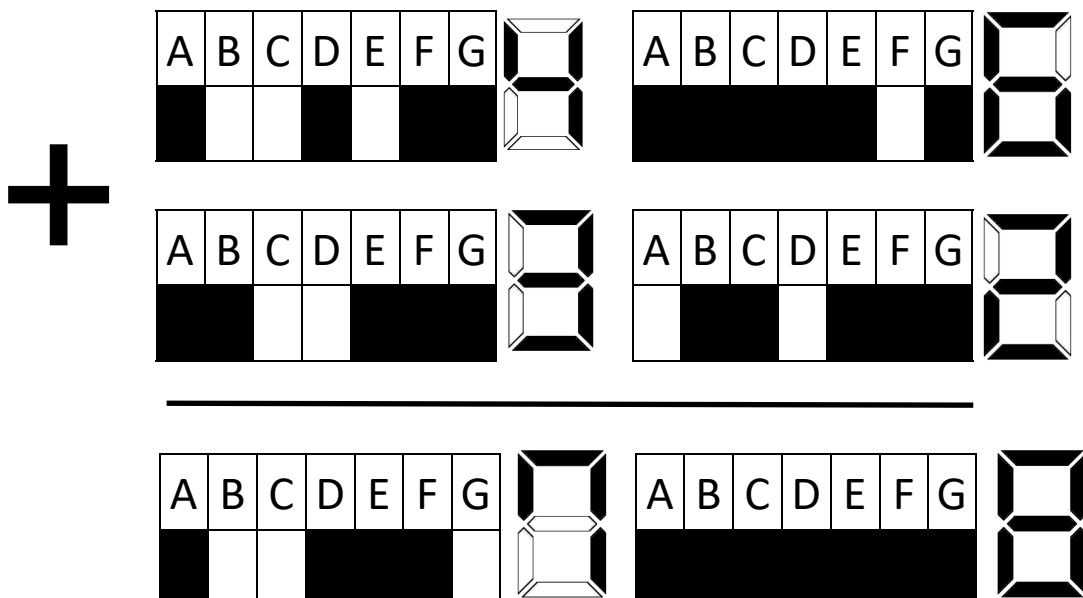
1- Retrouve le nombre codé.



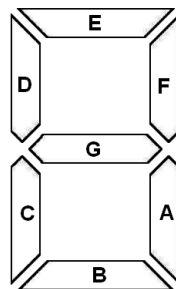
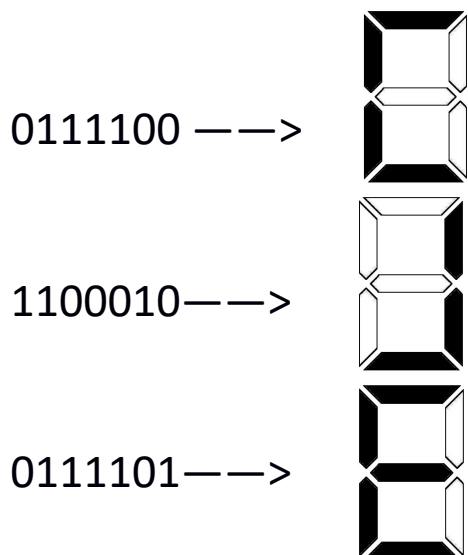
2- Code le nombre ci-dessous



3- Trouve le résultat du calcul ci-dessous



4- Que représentent les codes suivants?








5- Codez les lettres suivantes:

F → 0011101

L → 0111000

H → 1011011

6- Le tableau ci-dessous représente un mot écrit de haut en bas. Quel est ce mot?

	1	1	0	1	1	0	1
	1	0	1	1	1	1	1
	0	0	1	1	1	1	1
	1	0	0	0	0	1	0
	1	0	1	1	1	1	0

7- Quel était le mot codé?

0	1	1	1	1	0	0	0
1	1	1	1	1	1	0	0
1	1	1	1	0	1	0	0
0	1	1	1	1	0	0	0
1	0	1	1	0	1	1	4
0	1	1	1	1	0	1	0
1	1	0	1	1	0	1	0

8- Quel est le mot reçu?

0	1	1	1	0	0	0	0
1	1	1	1	1	1	0	0
1	1	1	1	0	1	0	0
0	1	1	1	1	0	0	0
1	0	1	1	0	1	1	4
0	1	1	1	1	0	1	0
1	1	0	1	1	0	1	0