

LE CODE BARRE







Défi N°1:

De quels pays viennent les produits qui disposent de ces codes barres?

<p>A-</p> 	<p>300 à 379 France 300 < 352 < 379</p>
<p>B-</p> 	<p>800 à 839 Italie 800 < 810 < 839</p>
<p>C-</p> 	<p>690 à 695 Chine 690 ≤ 690 < 695</p>
<p>D-</p> 	<p>760 à 769 Suisse 760 < 761 < 769</p>
<p>E-</p> 	<p>870 à 879 Pays-Bas 871 < 871 < 879</p>
<p>F-</p> 	<p>460 à 469 Russie 460 < 468 < 469</p>

Défi N°2:







Quels sont les codes barres qui correspondent à la même entreprise?

<p>A-</p>  <p>0360119 3 068320 114453 gratuits... unaturel.com - SAEME BP 87 74503 Evian</p>	<p>B-</p>  <p>9 782878 334425</p>
<p>C-</p>  <p>5 410853 060789 ></p>	<p>D-</p>  <p>3 068328 018005</p>
<p>E-</p>  <p>3 068328 018104 ></p>	<p>F-</p>  <p>NE PAS JETER VDOPJ_LED_900 4 683080 100241</p>

Réponse: D et E

Défi N°3:

Parmi les codes ci-dessous, quels sont les codes incorrects?

A- 	<table border="1"> <tbody> <tr> <td>Code barre</td> <td>3</td><td>5</td><td>6</td><td>4</td><td>7</td><td>0</td><td>0</td><td>6</td><td>5</td><td>0</td><td>3</td><td>3</td><td>4</td><td></td> </tr> <tr> <td>vérification</td> <td>3</td><td>15</td><td>6</td><td>12</td><td>7</td><td>0</td><td>0</td><td>18</td><td>5</td><td>0</td><td>3</td><td>9</td><td>4</td><td>82</td> </tr> </tbody> </table>	Code barre	3	5	6	4	7	0	0	6	5	0	3	3	4		vérification	3	15	6	12	7	0	0	18	5	0	3	9	4	82
Code barre	3	5	6	4	7	0	0	6	5	0	3	3	4																		
vérification	3	15	6	12	7	0	0	18	5	0	3	9	4	82																	
<p>Ce code barre est incorrect.</p>																															
B- 	<table border="1"> <tbody> <tr> <td>Code</td> <td>5</td><td>4</td><td>1</td><td>1</td><td>1</td><td>8</td><td>8</td><td>1</td><td>1</td><td>9</td><td>0</td><td>9</td><td>8</td><td>total</td> </tr> <tr> <td>vérifi-</td> <td>5</td><td>12</td><td>1</td><td>3</td><td>1</td><td>24</td><td>8</td><td>3</td><td>1</td><td>27</td><td>0</td><td>27</td><td>8</td><td>120</td> </tr> </tbody> </table>	Code	5	4	1	1	1	8	8	1	1	9	0	9	8	total	vérifi-	5	12	1	3	1	24	8	3	1	27	0	27	8	120
Code	5	4	1	1	1	8	8	1	1	9	0	9	8	total																	
vérifi-	5	12	1	3	1	24	8	3	1	27	0	27	8	120																	
<p>Ce code barre est correct.</p>																															
C- 	<table border="1"> <tbody> <tr> <td>Code barre</td> <td>3</td><td>5</td><td>0</td><td>1</td><td>1</td><td>7</td><td>9</td><td>9</td><td>4</td><td>5</td><td>8</td><td>4</td><td>2</td><td>total</td> </tr> <tr> <td>vérification</td> <td>3</td><td>15</td><td>0</td><td>3</td><td>1</td><td>21</td><td>9</td><td>27</td><td>4</td><td>15</td><td>8</td><td>12</td><td>2</td><td>120</td> </tr> </tbody> </table>	Code barre	3	5	0	1	1	7	9	9	4	5	8	4	2	total	vérification	3	15	0	3	1	21	9	27	4	15	8	12	2	120
Code barre	3	5	0	1	1	7	9	9	4	5	8	4	2	total																	
vérification	3	15	0	3	1	21	9	27	4	15	8	12	2	120																	
<p>Ce code barre est correct.</p>																															
D- 	<table border="1"> <tbody> <tr> <td>Code barre</td> <td>3</td><td>7</td><td>0</td><td>0</td><td>3</td><td>2</td><td>3</td><td>2</td><td>0</td><td>3</td><td>3</td><td>2</td><td>2</td><td>total</td> </tr> <tr> <td>vérification</td> <td>3</td><td>21</td><td>0</td><td>0</td><td>3</td><td>6</td><td>3</td><td>6</td><td>0</td><td>9</td><td>3</td><td>6</td><td>2</td><td>62</td> </tr> </tbody> </table>	Code barre	3	7	0	0	3	2	3	2	0	3	3	2	2	total	vérification	3	21	0	0	3	6	3	6	0	9	3	6	2	62
Code barre	3	7	0	0	3	2	3	2	0	3	3	2	2	total																	
vérification	3	21	0	0	3	6	3	6	0	9	3	6	2	62																	
<p>Ce code barre est incorrect.</p>																															
E- 	<table border="1"> <tbody> <tr> <td>Code barre</td> <td>3</td><td>1</td><td>6</td><td>5</td><td>4</td><td>3</td><td>0</td><td>6</td><td>3</td><td>0</td><td>0</td><td>0</td><td>3</td><td>total</td> </tr> <tr> <td>vérification</td> <td>3</td><td>3</td><td>6</td><td>15</td><td>4</td><td>9</td><td>0</td><td>18</td><td>3</td><td>0</td><td>0</td><td>0</td><td>3</td><td>64</td> </tr> </tbody> </table>	Code barre	3	1	6	5	4	3	0	6	3	0	0	0	3	total	vérification	3	3	6	15	4	9	0	18	3	0	0	0	3	64
Code barre	3	1	6	5	4	3	0	6	3	0	0	0	3	total																	
vérification	3	3	6	15	4	9	0	18	3	0	0	0	3	64																	
<p>Ce code barre est incorrect.</p>																															
F- 	<table border="1"> <tbody> <tr> <td>Code barre</td> <td>3</td><td>1</td><td>7</td><td>3</td><td>2</td><td>8</td><td>7</td><td>5</td><td>4</td><td>0</td><td>3</td><td>6</td><td>5</td><td>total</td> </tr> <tr> <td>vérification</td> <td>3</td><td>3</td><td>7</td><td>9</td><td>2</td><td>24</td><td>7</td><td>15</td><td>4</td><td>0</td><td>3</td><td>18</td><td>5</td><td>100</td> </tr> </tbody> </table>	Code barre	3	1	7	3	2	8	7	5	4	0	3	6	5	total	vérification	3	3	7	9	2	24	7	15	4	0	3	18	5	100
Code barre	3	1	7	3	2	8	7	5	4	0	3	6	5	total																	
vérification	3	3	7	9	2	24	7	15	4	0	3	18	5	100																	
<p>Ce code barre est correct.</p>																															

Réponses: A, D et E

Défi N°4:

Un chiffre du code barre est effacé. Retrouve le pour que le correct soit correct.



Code barre	5	0	0	0	3	?	7	1	0	3	4	5	9	
vérification	5	0	0	0	3	0	7	3	0	9	4	15	9	55

$$55 + ? = 60$$

Réponses: 5