


# LES EMBALLAGES

Corrigé

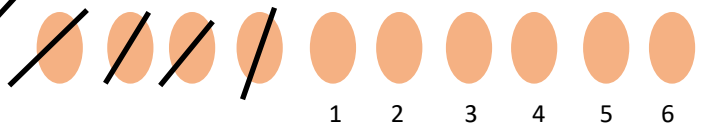
1- Combien d'œufs restent- il dans la boîte fermée ?



Il y a **3** œufs dans la boîte fermée.

2 - Et dans celle-ci ?

Il y a 10 œufs dans la boîte. Je les dessine.



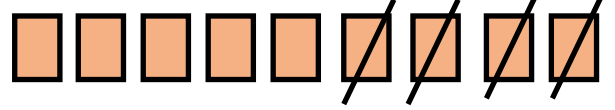
Je barre ceux qui sont sortis puis je compte les autres.

Il y a **6** œufs dans la boîte fermée.

3- Aucun gâteau n'a été mangé, mais dans quelle boîte en reste-il le plus ?



Il y a 9 biscuits dans la boîte. Je les dessine.



Je barre ceux qui sont sortis puis je compte les autres.

Il y a **5 biscuits** dans la boîte fermée.



Il y a 5 mini roulés dans la boîte. Je les dessine.




Je barre ceux qui sont sortis puis je compte les autres.

Il y a **4 mini roulés** dans la boîte fermée.



Il y a 8 tartelettes dans la boîte. Je les dessine.



Il y a **6 tartelettes** dans la boîte fermée.

1	2	3	4	5	6	7	8	9	10	11	12	13	14	15	16	17	18	19	20	
			○	□	●															

C'est dans la boîte de tartelettes qu'il reste le plus grand nombre de gâteaux.